

**МИНИСТЕРСТВО ОБРАЗОВАНИЯ СТАВРОПОЛЬСКОГО КРАЯ
УГИБДД ГУ МВД РОССИИ ПО СТАВРОПОЛЬСКОМУ КРАЮ
ГБУ ДО «КРАЕВОЙ ЦЕНТР РАЗВИТИЯ ТВОРЧЕСТВА ДЕТЕЙ И
ЮНОШЕСТВА ИМЕНИ Ю.А. ГАГАРИНА»
КРАЕВОЙ ЦЕНТР БЕЗОПАСНОСТИ ДОРОЖНОГО ДВИЖЕНИЯ**



***Краевая олимпиада по правилам дорожного движения
для школьников***

Ф.И. участника, класс _____

Образовательная организация (полностью) _____

Время выполнения заданий _____

Ф.И.О. педагога _____

сот. телефон (педагога) _____ электронная почта _____

Правила дорожные знать каждому положено!

Ну, что? Приступим!

Задание для учащихся 1 – 4 классов

№ 1. Решите ребус



Ответ _____



Ответ _____




Ответ _____



Ответ _____

Задание для учащихся 1 – 4 классов

№ 2. Решите кроссворд



По горизонтали:

1. Хоть и столб, но не забор. Что же это?
2. Пешеходная дорога на какого зверя похожа?
3. Вот полосатый переход, кто же по нему идет?
4. У светофора: красный, желтый, зеленый...
Какое слово общее у них?


По вертикали:

2. Ты, конечно должен знать, что означает дорожный ...
5. На остановку подъезжает и людей сажает.
6. Как зовут самого высокого милиционера?
7. Кому можно доверить руль в машине?
8. Кто учит детей прыгать, бегать, кувыряться?
9. Без чего нельзя ездить в общественном транспорте?

Задание для учащихся 1 – 4 классов


№3

Представь, что ты участвуешь в конкурсе рисунков. Тебе необходимо изобразить рисунок на тему: «Любому пешеходу идти по переходу!»



Задание для учащихся 5 – 8 классов

№1. Решите ребус



Ответ _____



Ответ _____



Ответ _____

№2. Решите тест: «Знаешь ли ты правила дорожного движения?»

1. Что должны сделать пешеходы, не успевшие закончить переход?

- А. Остановиться на островке безопасности или на линии, разделяющей транспортные потоки противоположных направлений и продолжить переход лишь убедившись в безопасности и с учетом сигнала светофора (регулирующего);
- Б. Поспешить перейти проезжую часть, не останавливаясь;
- В. Быстро перебежать проезжую часть, несмотря на запрещающий сигнал светофора.

2. Кто такие участники дорожного движения?

- А. Водители транспортных средств;
- Б. Пешеходы;
- В. Пассажиры;
- Г. Все перечисленные категории.

3. После выхода из маршрутного такси Вы должны?

- А. Быстро обойти маршрутное такси спереди и перейти проезжую часть;
- Б. Быстро обойти маршрутное такси сзади и перейти проезжую часть;
- В. Не задерживаясь освободить проезжую часть.

4. С какого возраста можно быть пассажиром мотоцикла?

- А. с 12 лет;
- Б. с 13 лет;
- В. с 14 лет;
- Г. с 15 лет.

5. В каких случаях можно передвигаться по дороге велосипедисту?

- А. Достигнув 14-лет можно ехать на велосипеде по правому краю проезжей части даже если имеется обочина или велодорожки;
- Б. Достигнув 14-лет можно ехать на велосипеде по правому краю проезжей части если отсутствует велопешеходная дорожка, полоса для велосипедистов, либо отсутствует возможность двигаться по ним.

6. С какого возраста разрешается на велосипеде выезжать на проезжую часть?

- А. с 12 лет;
- Б. с 13 лет;
- В. с 14 лет;
- Г. с 15 лет.

7. Можно ли перевозить ребёнка до 7 лет на велосипеде?

- А. Да, посадив перед собой;
- Б. Да, используя дополнительное сиденье, в велоколяске или в прицепе, предназначенном для эксплуатации с велосипедом;
- В. Да, посадив на багажник.

8. Где можно кататься на СИМ (средствах индивидуальной мобильности) мотокалёсах, гироскутерах, электросамокатах, сигвеях и т.д. достигнув 14 лет?

- А. По краю проезжей части, навстречу движения транспортных средств;
- Б. На пешеходных переходах можно переезжать проезжую часть не спешиваясь;
- В. По велопешеходным дорожкам, тротуарам, пешеходным дорожкам или обочине;

Г. Разрешается только при использовании технических устройств, позволяющего вести переговоры без использования рук.

9. Экипировка велосипедиста?

- А. Жилет со световозвращающими элементами, велошлем, наколенники, налокотники, прищепки или зажимы для брюк;
- Б. Велошлем, наколенники и налокотники.

10. В какое время года тормозной путь становится самым большим?

- А. Летом на сухом участке дороги;
- Б. Осенью после дождя;
- В. Зимой в гололёд.

11. Где за городом пешеходам безопаснее всего идти?

- А. По обочине, навстречу движению транспорта;
- Б. По пешеходной дорожке, как можно дальше от транспорта;
- В. По краю проезжей части, соблюдая осторожность.

12. Как поступить велосипедисту, если перед перекрестком установлен этот знак?




- А. При проезде перекрестка быть особенно внимательным.
- Б. Остановиться у стоп-линий, а если ее нет - перед краем пересекаемой проезжей части, и уступить дорогу транспортным средствам, движущимся по пересекаемой дороге.

Задание для учащихся 5 – 8 классов

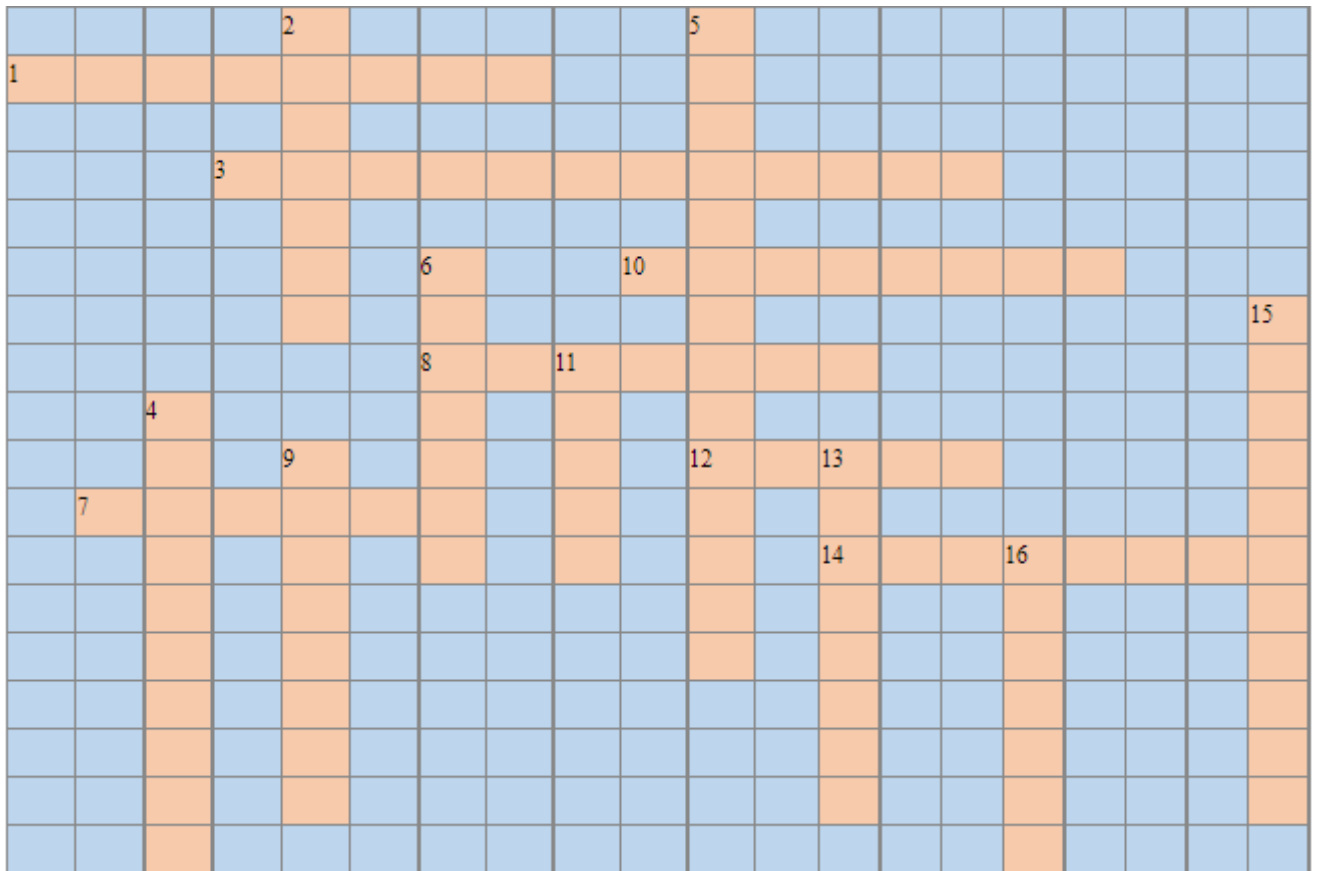
№3

Представь, что ты графический - дизайнер. Заказчик попросил создать дизайн листовок для говорящих о недопустимости подвижных игр вблизи проезжей части. Тебе необходимо придумать слоган и творчески совместить текстовый контент (содержание) с визуальным.

A large empty rectangular box with a thin black border, intended for the student to create a visual design for a leaflet. The box is currently blank.

Задание для учащихся 9 – 11 классов

№1. Решите кроссворд



По горизонтали:

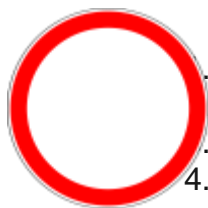
1. Специальные знаки на поверхности дороги.
3. Лицо, регулирующее действие чего-нибудь, а также название специальности.
7. Любая используемая для движения улица, проспект и т.д. по всей ширине.
8. Боковая часть, край дороги, пути и т.п.
10. Специально обозначенное и при необходимости обустроенное и оборудованное место, являющееся в том числе частью автомобильной дороги или примыкающее к проезжей части и или тротуару, обочине, являющееся частью площадей или иных объектов улично-дорожной сети, зданий, строений или сооружений и предназначенное для организованной стоянки транспортных средств.
12. Дорога, не имеющая сквозного проезда.
14. Средство регулирования дорожного движения.

По вертикали:

2. Лицо, находящееся вне транспортного средства на дороге и не производящее на ней работу.
4. Безрельсовое механическое транспортное средство контактного типа с электрическим проводом.
5. Скоростная дорога, на которой действуют Правила дорожного движения.
6. Дорожка для пешеходов.
9. Человек, управляющий транспортным средством.
11. Опережение движущегося транспортного средства, связанное с выездом с занимаемой полосы.
13. Лицо, кроме водителя, находящееся в транспортном средстве.
15. Место пересечения, примыкания или разветвления дорог на одном уровне.
16. Вид транспорта, движущийся по рельсам.

Задание для учащихся 9 – 11 классов
№3. Решите тест: «Проверь себя на знания ПДД»

Вопрос №1



Что означает этот знак?

- А. Движение пешеходов запрещено
- Б. Движение всех транспортных средств запрещено
- В. Движение разрешено
- 4. Г. Движение пешеходов и транспортных средств запрещено

Вопрос №2

Что обязаны иметь пешеходы в темное время суток или в условиях недостаточной видимости вне населенного пункта?

- А. Мобильный телефон
- Б. Документ, удостоверяющий личность
- В. Предметы со световозвращающими элементами
- Г. Пешеходам запрещено двигаться в темное время суток или в условиях недостаточной видимости вне населенного пункта

Вопрос №3

Что такое обочина?

- А. Обочина - это не элемент дороги, но используется для движения, остановки и стоянки в соответствии с Правилами.
- Б. Элемент дороги, примыкающий непосредственно к проезжей части на одном уровне с ней, отличающийся типом покрытия или выделенный с помощью разметки, используемый для движения, остановки и стоянки в соответствии с Правилами.
- В. Край проезжей части, используемый для движения, остановки и стоянки в соответствии с Правилами.
- Г. Элемент дороги, примыкающий непосредственно к проезжей части на одном уровне с ней, не отличающийся типом покрытия и не выделенный с помощью разметки, используемый для движения, остановки и стоянки в соответствии с Правилами.

Вопрос №4

Как разрешается переходить дорогу при отсутствии в зоне видимости перехода или перекрестка?

- А. Под прямым углом к краю проезжей части на участках без разделительной полосы и ограждений там, где она хорошо просматривается в обе стороны.
- Б. По диагонали, чтобы сократить свой маршрут
- В. Не имеет значения
- Г. Все перечисленные варианты

Вопрос №5

Где необходимо ожидать маршрутное транспортное средство и такси?

- А. На любом на ваш взгляд безопасном месте
- Б. На краю проезжей части
- В. Только на приподнятых над проезжей частью посадочных площадках, а при их отсутствии - на тротуаре или обочине.
- Г. На тротуаре или обочине

Вопрос №6**Пассажирам запрещается:**

- А. Отвлекать водителя от управления транспортным средством во время его движения.
- Б. При поездке на грузовом автомобиле с бортовой платформой стоять, сидеть на бортах или на грузе выше бортов.
- В. Открывать двери транспортного средства во время его движения.
- Г. Все перечисленные варианты

Вопрос №7**С какого возраста разрешается учебная езда**

- А. На автомобиле должно быть не менее 16 лет, а на мотоцикле - не менее 14 лет.
- Б. На автомобиле должно быть не менее 18 лет, а на мотоцикле - не менее 16 лет.
- В. На автомобиле должно быть не менее 18 лет, а на мотоцикле - не менее 18 лет.
- Г. На автомобиле должно быть не менее 14 лет, а на мотоцикле - не менее 12 лет.

Вопрос №8**Велосипедистам и водителям мопедов запрещается:**

- А. Управлять велосипедом, мопедом, не держась за руль хотя бы одной рукой.
- Б. Перевозить детей до 7 лет при отсутствии специально оборудованных для них мест.
- В. Пересекать дорогу по пешеходным переходам.
- Г. Все перечисленные варианты

Задание для учащихся 9 – 11 классов

№4

Представь, что ты графический - дизайнер. Заказчик попросил создать дизайн плаката для подростковой аудитории, которые посвящены опасности использования гаджетов при пересечении проезжей части дороги. Тебе необходимо придумать слоган и творчески совместить текстовый контент (содержание) с визуальным.

